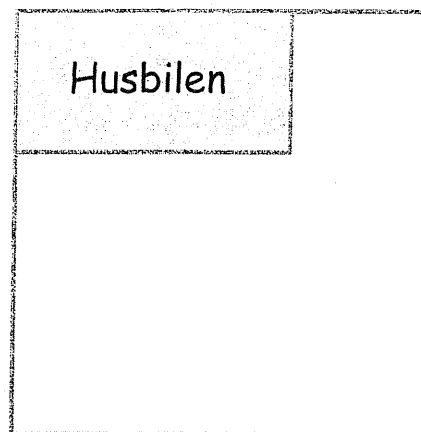



Husbilen

Familjen Ryan är på semester i Australien.
De har parkerat sin husbil på plats nummer 16.
På ritningen ser du hur de har parkerat.
Husbilen täcker 8 m^2 av hela platsen.



Hur stor area (yta) har hela plats 16? Visa hur du löser uppgiften

Elevlösningar

1.

Detta har 36 m^2 i area
 $4 \text{ m}^2 \cdot 9 \text{ m}^2 = 36 \text{ m}^2$

| | | |
|-----------------|-----------------|-----------------|
| 4 m^2 | 4 m^2 | 4 m^2 |
| 4 m^2 | 4 m^2 | 4 m^2 |
| 4 m^2 | 4 m^2 | 4 m^2 |

2.

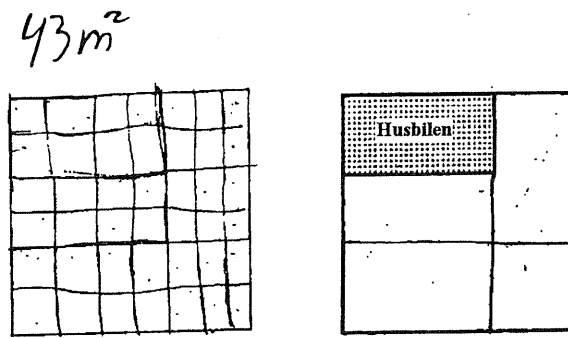
Platsen är 36 m^2

Familjen tog 8 m^2 det är alltså $4 \text{ m} \times 2 \text{ m}$

Här har dom minskat m till cm.

Nu kunde jag räkna ut hur många m^2 det var.

3.



4.

Jag räknar så här:

